

## ŘECKO-PERSKÉ VÁLKY

1. Najděte na mapě hlavní účastníky válečného konfliktu. Popište rozsah perské říše ve Středomoří. Co vedlo k válečnému konfliktu mezi perskou říší a řeckými polis?

Vyznačte na mapě Milétos, Athény, Spartu, Thermopyly, Marathon, Salamínu, Plataje a Mykalé.



.....

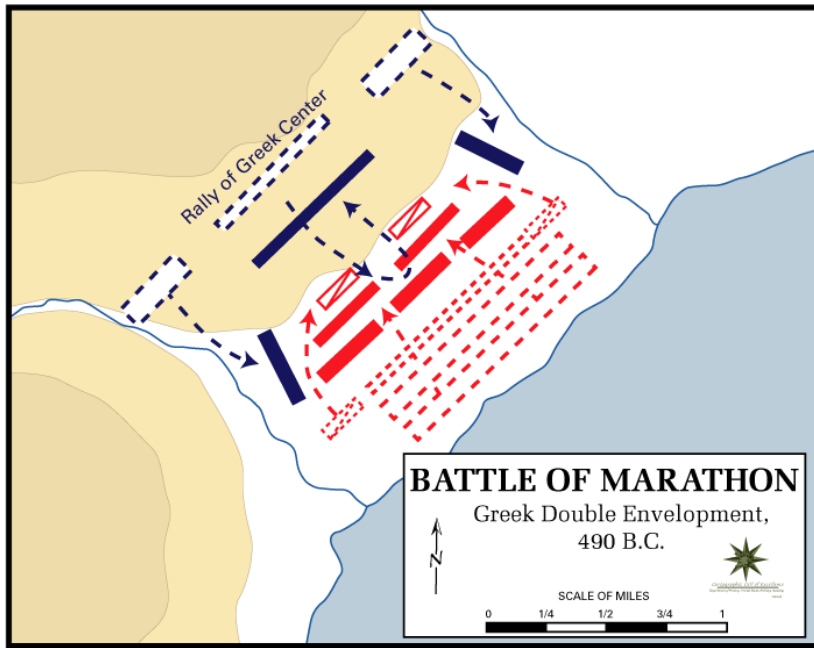
.....

.....

.....

.....

2. Popište průběh bitvy u Marathonu. Kdo velel řeckým (Athény a Plataje) a perským vojskům ? Jaký význam měla bitva pro Řeky, čím vstoupila do dějin?



.....

.....

.....

.....

.....

.....

3. V krátkém období relativního míru po bitvě u Marathonu Athéňané budují válečné loďstvo. Z jakých prostředků a na čí popud? Který přístav Athéňané opevnili?

.....

.....

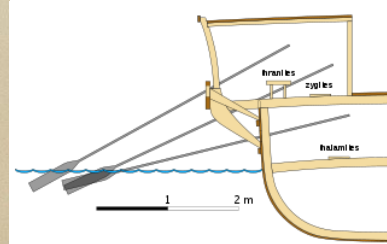

.....

.....

.....

.....

4. Popište řeckou válečnou loď. Jakou výhodu měla oproti lodím perským?




.....

.....

.....

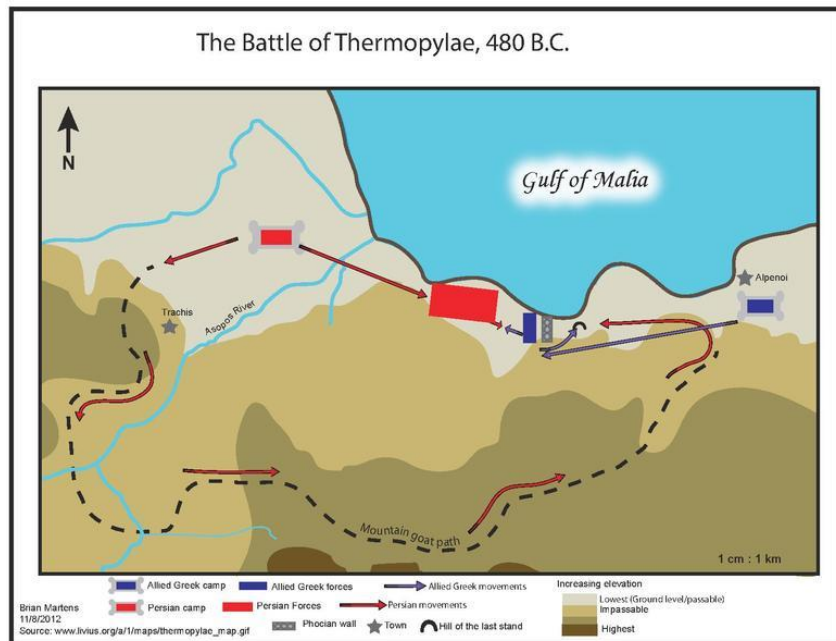
**5. Popište typy řeckých bojovníků a jejich výzbroj a výstroj.**



.....

.....

**6. Popište průběh bitvy u Thermopyl. Kdo velel řeckým a perským vojskům? Čím bitva vstoupila do dějin?**



.....

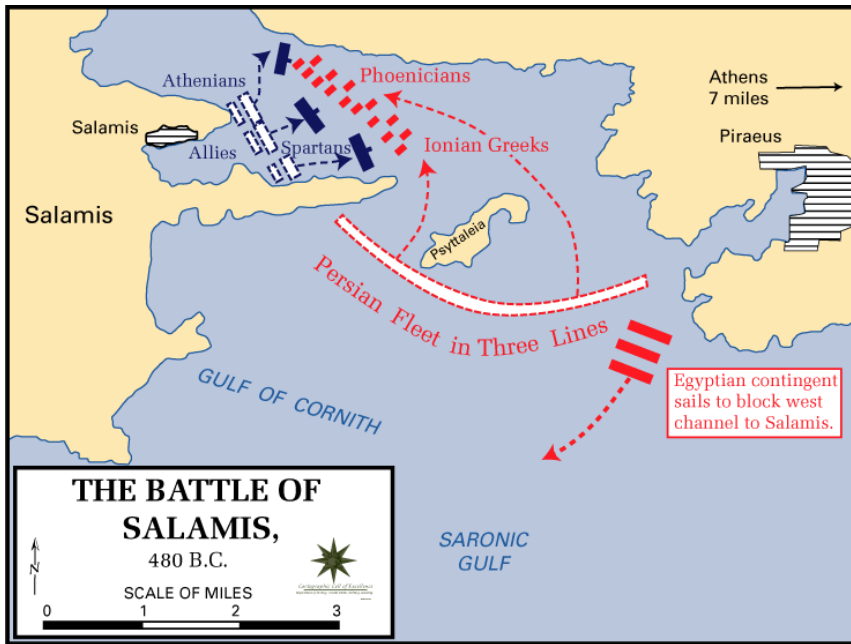
.....

.....

.....

.....

7. Popište průběh bitvy u Salamíny. S jakým výsledkem bitva skončila?



.....

.....

.....

.....

.....

.....

8. Ve kterých bitvách byla dokonána porážka perských vojsk?

.....

.....